


EEMT2024-PRELIMS-CL7 (#150)

Total Marks: 100

Total Duration: 60 minutes

Instructions

Read the instructions provided for every question properly before attempting the answer.



Section: GK-EASY

Marks per question: 1

3 of 3 question(s) in this section will be shown to examinee

Examinee should answer all 3 question(s) in this section

Q1 Difficulty Level: Very Easy

All you know that the Ram Mandir is built in Ayodhya. But Ayodhya is on the bank of which river?

అయోధ్యలో రామమందిర నిర్మాణం జరుగుతున్నసంగతి విదితమే. ఇంతకు అయోధ్య అనేది ఏ నది ఒడ్డున కలదు?

This question carries 1 mark

- Sarayu River సరయు నది
- Godavari River గోదావరి నది
- Yamuna River యమునా నది
- Kaveri River కావేరి నది

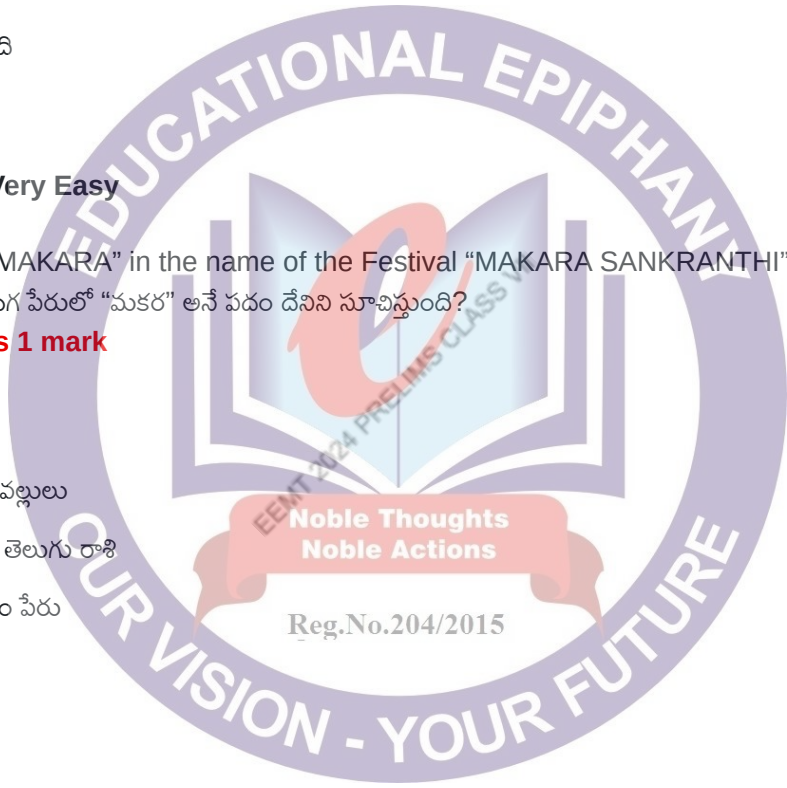
Q2 Difficulty Level: Very Easy

What does the word "MAKARA" in the name of the Festival "MAKARA SANKRANTHI" refer to?

"మకర సంక్రాంతి" అనే పండుగ పేరులో "మకర" అనే పదం దేనిని సూచిస్తుంది?

This question carries 1 mark

- Bhogi Fire భోగి మంట
- Rangoli Design రంగవల్లులు
- Telugu Zodiac Sign తెలుగు రాశి
- Name of a star నక్షత్రం పేరు



Q3 Difficulty Level: Very Easy


The given photo logo is associated with which programme?



ప్రక్క ఫోటోలోని లోగో ఏ కార్యక్రమానికి సంబంధించింది?

This question carries 1 mark

- Jagananna Suraksha జగనన్న సురక్ష
- Aadudam Andhra ఆడుదాం ఆంధ్ర
- Nari Shakti నారి శక్తి
- Khelo India Youth Games ఖేలో ఇండియా యువజన క్రీడలు



Section: GK-MODERATE

Marks per question: 2

2 of 2 question(s) in this section will be shown to examinee

Examinee should answer all 2 question(s) in this section

Q1 Difficulty Level: Very Easy

What is the full form of APPSC, that fills government jobs through Group - I, Group – II notifications?

గ్రూప్ - I, గ్రూప్ - II నోటిఫికేషన్ల ద్వారా ప్రభుత్వ ఉద్యోగాలు భర్తీ చేస్తే APPSC యొక్క పూర్తి పేరేమిటి?

This question carries 2 marks

- Andhra Pradesh Public Sector Code
- Andhra Pradesh People Service Centre
- Andhra Pradesh Public Service Commission
- Andhra Pradesh People Sector Coverage

Q2 Difficulty Level: Very Easy

What is the duty of ACB officers?

ACB అధికారుల విధి ఏమిటి?

This question carries 2 marks

- Red handed arrest of corrupt public servants
అవినీతి అధికారులను నేరుగా పట్టుకోవడం
- Regularization of house sites & Pass Books
ఇళ్ళ స్థలాలు/పట్టాలు క్రమబద్ధీకరించడం
- Issue licenses of shops and Inspection
అంగళ్ళ యొక్క లైసెన్స్ ల మంజూరు & తనిఖీ
- Provide legal advices to tribes
గిరిజనులకు న్యాయ సలహాలు అందించుట

Section: GK-DIFFICULT

Marks per question: 3

1 of 1 question(s) in this section will be shown to examinee

Examinee should answer all 1 question(s) in this section

Q1 Difficulty Level: Very Easy

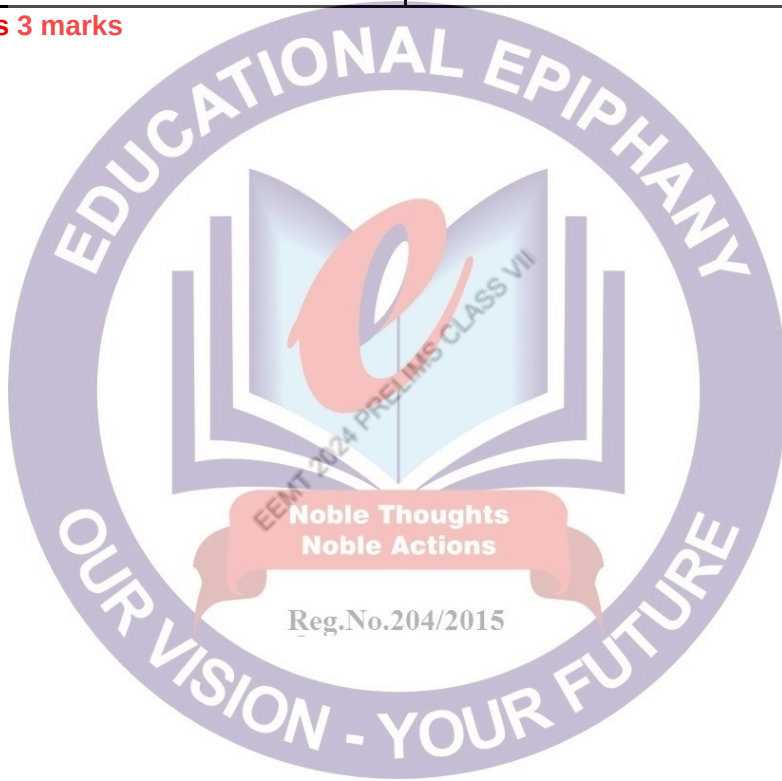
Match the following correctly.

క్రింది వాటిని సరైన విధంగా జతపరచండి.

i) Aaditya L1 (ఆదిత్య L1)	a) Venus శుక్రుడు
ii) Chandrayan (చంద్రయాన్)	b) Mars అంగారకుడు
iii) Mangalyaan (మంగళయాన్)	c) Moon చంద్రుడు
	d) Sun సూర్యుడు

This question carries 3 marks

- i – d, ii – c, iii - b
- i – b, ii – c, iii - a
- i – c, ii – d, iii - b
- i – d, ii – c, iii - a



Section: SCIENCE-EASY

Marks per question: 1

9 of 9 question(s) in this section will be shown to examinee

Examinee should answer all 9 question(s) in this section

Q1 Difficulty Level: Very Easy

The process of fusion of the male and female gametes is called_____

పురుష మరియు స్త్రీ సంయోగ బీజాల కలయిక ప్రక్రియ _____

This question carries 1 mark

- Fertilization ఫలదీకరణం
- Pollination పరాగ సంపర్కం
- Reproduction ప్రత్యుత్పత్తి
- Seed Formation విత్తన నిర్మాణం

Q2 Difficulty Level: Very Easy

What is the largest gland in our body?

మానవ శరీరంలో అతి పెద్ద గ్రంథి ఏది?

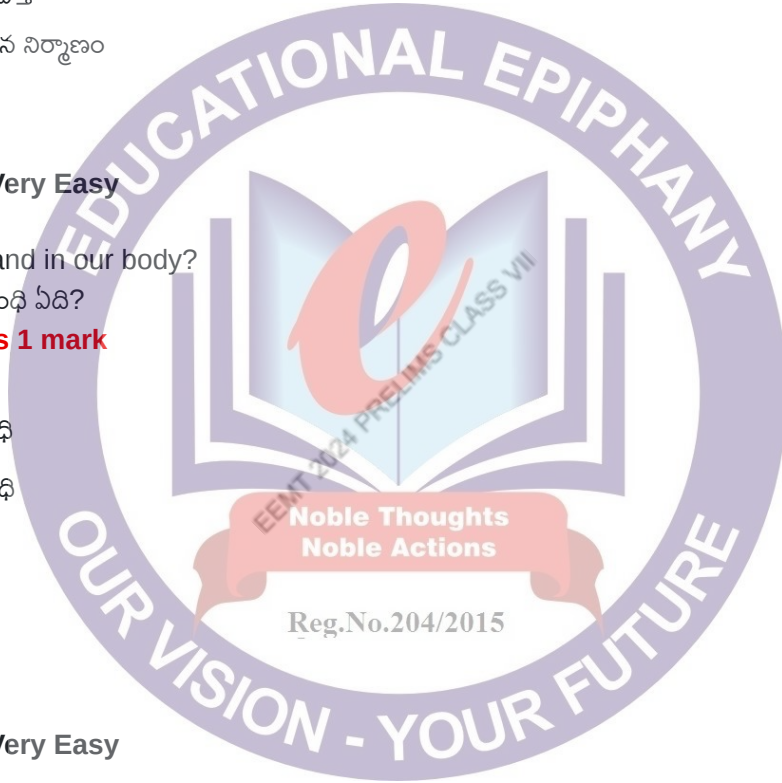
This question carries 1 mark

- Pituitary పిట్యూటరీ గ్రంథి
- Adrenals ఎడ్రినలిన్ గ్రంథి
- Liver కాలేయం
- Thyroid థైరాయిడ్

Q3 Difficulty Level: Very Easy

 $72\text{km/h}(\text{కి.మీ/గం}) = \text{_____} \text{m/s}(\text{మీ/సె})$ **This question carries 1 mark**

- 10
- 15
- 20
- 25



Q4 Difficulty Level: Very Easy

Percentage of CO₂ in inhaled air is _____

పీల్చే గాలిలో CO₂ శాతం?

This question carries 1 mark

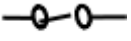
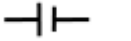
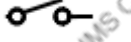

- 0.4%
- 0.04%
- 0.004%
- 0.0004%

Q5 Difficulty Level: Very Easy

Symbol of Electric Cell _____

విద్యుత్ ఘటం సంకేతం _____

This question carries 1 mark

- 
- 
- 
- 

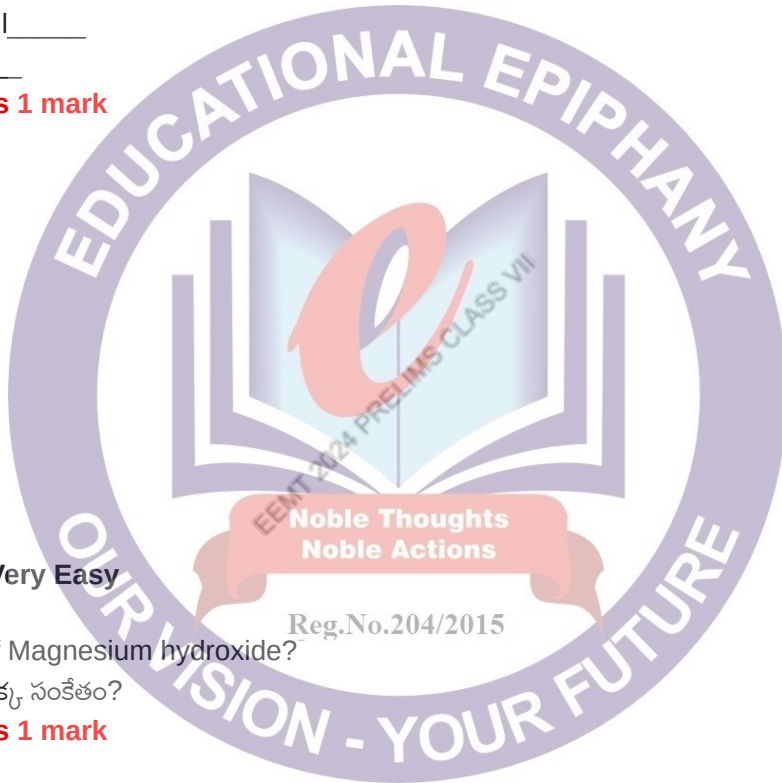
Q6 Difficulty Level: Very Easy

What is the formula of Magnesium hydroxide?

మెగ్నీషియం హైడ్రాక్సైడ్ యొక్క సంకేతం?

This question carries 1 mark

- Mg₂OH
- Mg(OH)₂
- MgOH
- Mg₂OH₂



Q7 Difficulty Level: Very Easy

Amoeba digests its food in the _____

అమీబా, దాని ఆహారాన్ని ఎక్కడ జీర్ణం చేస్తుంది?

This question carries 1 mark

- Stomach జీర్ణాశయం
- Food pipe ఆహారవాహిక
- Food Vacuole ఆహార రిక్తిక
- Rumen ప్రథమ అమాశయం

Q8 Difficulty Level: Very Easy

Litmus is extracted from

లిట్మస్ ను ఈ క్రింది వాటి నుండి సంగ్రహించబడును

This question carries 1 mark

- Lichens లైకెన్స్
- Lime Water సున్నపు తేట
- Atmosphere వాతావరణం
- Soil మట్టి

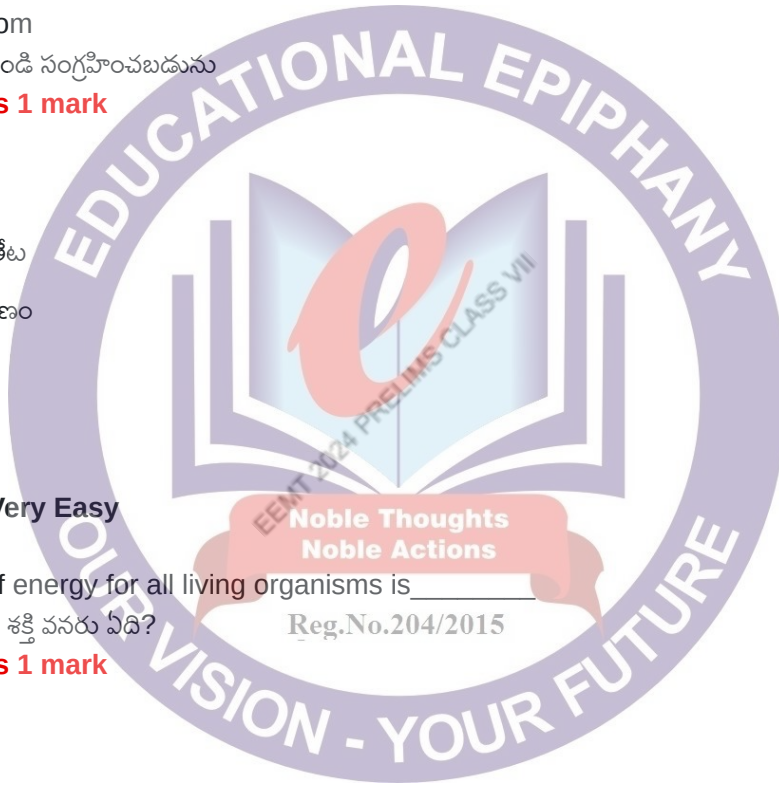
Q9 Difficulty Level: Very Easy

The ultimate source of energy for all living organisms is _____

సమస్త జీవరాశులకు అంతిమ శక్తి వనరు ఏది?

This question carries 1 mark

- The Sun సూర్యుడు
- Plants మొక్కలు
- The Moon చంద్రుడు
- Animals జంతువులు



Section: SCIENCE-MODERATE

Marks per question: 2

4 of 4 question(s) in this section will be shown to examinee

Examinee should answer all 4 question(s) in this section

Q1 Difficulty Level: Very Easy

Which of the following is not a Legumes?

ఈ క్రింది వానిలో లేగ్యుమినేసి కుటుంబానికి చెందనిది

This question carries 2 marks

- Moong పెసలు
- Neem వేప
- Beans చిక్కుడు
- Peas బరాణి

Q2 Difficulty Level: Very Easy

Raju was bitten by an ant. Then what substance is gives relief to him

రాజును చీమ కుట్టింది. అప్పుడు అతనికి ఉపశమనం కొరకు ఉపయోగపడునది ఏది?

This question carries 2 marks

- Baking Soda బేకింగ్ సోడా
- Formic Acid ఫార్మిక్ ఆసిడ్
- Calamine కాలమైన్
- Baking Soda (బేకింగ్ సోడా) or Calamine (కాలమైన్)

Q3 Difficulty Level: Very Easy

Which of the following is not a product in anaerobic respiration?

ఈ క్రింది వాటిలో అవాయి శ్వాసక్రియలో ఉత్పన్నం కానిది

This question carries 2 marks

- Water నీరు
- Energy శక్తి
- Carbon dioxide కార్బన్ డయాక్సైడ్
- Alcohol ఆల్కహాల్


Q4 Difficulty Level: Very Easy

Which of the following is fight against germs that may enter our body.

ఈ క్రింది వాటిలో ఏవి మన శరీరంలోకి ప్రవేశించే సూక్ష్మక్రిములతో పోరాడుతాయి?

This question carries 2 marks

- White Blood Cells తెల్ల రక్త కణాలు
- Red Blood Cells ఎర్ర రక్త కణాలు
- Platelets రక్త ఫలకీకలు
- None of the above పైవేవికావు



Section: SCIENCE-DIFFICULT

Marks per question: 3

3 of 3 question(s) in this section will be shown to examinee

Examinee should answer all 3 question(s) in this section

Q1 Difficulty Level: Very Easy

Match the following correctly

సరైన విధంగా జతపరచండి

i) Autotrophic స్వయం పోషకం	a) Mushrooms పుట్టగొడుగు
ii) Insectivorous కీటకాహార మొక్కలు	b) Cuscuta కస్కుట
iii) Parasite పరాన్నజీవి	c) Pitcher Plant నెపంథిస్(పిచ్చర్) మొక్క
iv) Saprotrophs పూతికాహారులు	d) Tamarind చింతచెట్టు

This question carries 3 marks

- i – d, ii – b, iii – a, iv - c
 i – d, ii – a, iii – c, iv - b
 i – d, ii – c, iii – b, iv - a
 i – c, ii – b, iii – a, iv – d

Q2 Difficulty Level: Very Easy

Find the correct order (ఈ క్రింది వాటిలో సరైన క్రమం ఏది?)

This question carries 3 marks

- Kidney** → **Urethra** → **Ureter** → **Urinary bladder**
 మూత్రపిండం → ప్రసేకం → మూత్రనాళం → మూత్రాశయం
- Kidney** → **Urinary bladder** → **Ureter** → **Urethra**
 మూత్రపిండం → మూత్రాశయం → మూత్రనాళం → ప్రసేకం
- Kidney** → **Ureter** → **Urinary bladder** → **Urethra**
 మూత్రపిండం → మూత్రనాళం → మూత్రాశయం → ప్రసేకం
- Kidney** → **Ureter** → **Urethra** → **Urinary bladder**
 మూత్రపిండం → మూత్రనాళం → ప్రసేకం → మూత్రాశయం

Q3 Difficulty Level: Very Easy


Match the following correctly

సరైన విధంగా జతపరచండి

i) Acetic Acid ఎసిటిక్ ఆమ్లం	a) Tamarind చింత
ii) Lactic acid లాక్టిక్ ఆమ్లం	b) Spinach పాలకూర
iii) Oxalic Acid ఆక్సాలిక్ ఆమ్లం	c) Vinegar వెనిగర్
iv) Tartaric Acid టార్టారిక్ ఆమ్లం	d) Curd పెరుగు

This question carries 3 marks

- i - d, ii - c, iii - b, iv - a
 i - c, ii - d, iii - a, iv - b
 i - c, ii - d, iii - b, iv - a
 i - c, ii - a, iii - b, iv - d



Section: SOCIAL-EASY

Marks per question: 1

6 of 6 question(s) in this section will be shown to examinee

Examinee should answer all 6 question(s) in this section

Q1 Difficulty Level: Very Easy

The famous quote, "All men are equal there is no caste or sub-caste" was given by whom?

అందరూ సమానమే "కులాలు లేదా ఉపకులాలు అంటూ ఏవీలేవు" అని పలికిందెవరు?

This question carries 1 mark

- Basaveswara బసవేశ్వరుడు
- Vallabhacharya వల్లభాచార్యుడు
- Ramdas రామదాసు
- Ramananda రామానందుడు

Q2 Difficulty Level: Very Easy

Raju wanted to draw an Indian resources map. To show the mineral available area in that map, he has to use which of the following colour?

రాజు అనే విద్యార్థి భారతదేశపు వనరులు అనే పటాన్ని గీయాలనుకున్నాడు. అందులో ఖనిజాలు లభ్యమయ్యే ప్రాంతాన్ని సూచించడానికి ఈ క్రింది ఏ రంగును ఉపయోగిస్తాడు?

This question carries 1 mark

- Light red లేత ఎరుపు
- Dark grey ముదురు బూడిద
- White తెలుపు
- Black నలుపు

Q3 Difficulty Level: Very Easy

'Pigmies' are related to which of the following?

పిగ్మీలు ఈ క్రింది వానిలో దేనికి సంబంధించిన వారు?

This question carries 1 mark

- Amazon అమెజాన్
- Congo కాంగో
- Angola అంగోలా
- Kenya కెన్యా

Q4 Difficulty Level: Very Easy

What is the meaning of the word "fateh"?

"ఫతేహ్" అనే పదం యొక్క అర్థం ఏమిటి?

This question carries 1 mark

- Gold బంగారం
- Victorious విజయం
- Brave ధైర్యం
- Tax పన్ను

Q5 Difficulty Level: Very Easy

What are the forests, where the rainfall is more than 200 cm & temperature around 20⁰ C?

200 సెం. మీ. వర్షపాతం & 20⁰ C ఉష్ణోగ్రత కలిగిన ప్రదేశంలో ఉండే అడవులు ఏవి?

This question carries 1 mark

- Deciduous forests ఆకురాల్చు అడవులు
- Montane forests పర్వతప్రాంత అడవులు
- Mangrove forests మడ అడవులు
- Evergreen forests సతత హరిత అడవులు

Q6 Difficulty Level: Very Easy

Basava puranam : Palkuriki Somanadha :: Pratapa Rudriyam : ?

బసవ పురాణం : పాల్కురికి సోమనాథ :: ప్రతాప రుద్రీయం : ?

This question carries 1 mark

- Vallabharaya వల్లభరాయ
- Jayapa జయాప
- Thikkana తిక్కన
- Vidyanaatha విద్యానాథ

Section: SOCIAL-MODERATE

Marks per question: 2

4 of 4 question(s) in this section will be shown to examinee

Examinee should answer all 4 question(s) in this section

Q1 Difficulty Level: Very Easy

Identify the odd one regarding the location of rivers.

నదుల ఉనికి ఆధారంగా భిన్నంగా ఉన్న దానిని గుర్తించండి.

This question carries 2 marks

- Krishna కృష్ణ
- Penna పెన్నా
- Brahmaputra బ్రహ్మపుత్ర
- Cauvery కావేరి

Q2 Difficulty Level: Very Easy

Which of the following poet was not in the list of "Asthadiggajas"

ఈ క్రింది ఏ కవి "అష్టదిగ్గజ కవుల జాబితాకు చెందడు"?

This question carries 2 marks

- Kalidas కాలిదాస్
- Dhoorjati ధూర్జటి
- Nandi Thimmana నంది తిమ్మన
- Pingali Sooranna పింగళి సూరన్న

Q3 Difficulty Level: Very Easy

"The head of the state is decided through election" this quality reflects the nature of ----- దేశాధి నేతను

ఎన్నికద్వారా నిర్ణయించడం అనే లక్షణం -----ను ప్రతిబింబిస్తుంది

This question carries 2 marks

- Sovereignty
సార్వభౌమాధికారం.
- Republic
గణతంత్రం.
- Secular. లౌకికం
- Socialism సామ్యవాదం


Q4 Difficulty Level: Very Easy

Alauddin khilji was connected to which of the following incident?

ఈ క్రింది ఏ సంఘటనతో అల్లావుద్దీన్ ఖిల్జీకి సంబంధం కలదు?

This question carries 2 marks

- Branding of horses గుర్రాల ముద్ర వేయించడం
- Changing of capital రాజధాని మార్పు
- Founder of khilji dynasty ఖిల్జీ వంశ స్థాపన
- All of the above పైవన్నీ



Section: SOCIAL-DIFFICULT

Marks per question: 3

2 of 2 question(s) in this section will be shown to examinee

Examinee should answer all 2 question(s) in this section


Q1 Difficulty Level: Very Easy

Match the following క్రింది వాటిని జతపరచండి

i) Golden era స్వర్ణ యుగం	a) Rudra Deva రుద్ర దేవుడు
ii) Rudhreswara temple రుద్రేశ్వర దేవాలయం	b) Ganapathi Deva గణపతి దేవుడు
iii) Last ruler of Kakatiya dynasty కాకతీయ వంశంలో చివరి పాలకుడు	c) Prola Raju - II 2వ ప్రోల రాజు
iv) First independent ruler of Kakatiyas కాకతీయులలో మొదటి స్వతంత్ర పాలకుడు	d) Pratapa rudra ప్రతాప రుద్రుడు

This question carries 3 marks

- i - b, ii - a, iii - d, iv - c
- i - d, ii - c, iii - b, iv - a
- i - a, ii - b, iii - c, iv - d
- i - b, ii - a, iii - c, iv - d




Q2 Difficulty Level: Very Easy

Match the following క్రింది వాటిని జతపరచండి

i) Biosphere జీవావరణం	a) Deserts, Mountains ఎడారులు, పర్వతాలు
ii) Atmosphere వాతావరణం	b) Sea, River సముద్రం, నది
iii) Hydrosphere జలావరణము	c) Argon 0.93% ఆర్గాన్ 0.93%
iv) Lithosphere శిలావరణము	d) Animals, Plants జంతువులు, మొక్కలు

This question carries 3 marks

- i - d, ii - c, iii - b, iv - a
- i - a, ii - b, iii - c, iv - d
- i - d, ii - b, iii - a, iv - c
- i - c, ii - d, iii - b, iv - a



Section: MATHS-EASY

Marks per question: 1

10 of 10 question(s) in this section will be shown to examinee

Examinee should answer all 10 question(s) in this section

Q1 Difficulty Level: Very Easy

$$2 \times 0.2 \times 2 \times 0.2 \times 2 \times 0.2$$

This question carries 1 mark

- 0.064
- 0.64
- 0.0064
- 64


Q2 Difficulty Level: Very Easy

Which of the following is not an Integer?

ఈ క్రింది వానిలో పూర్ణ సంఖ్య కానిది ఏది?

This question carries 1 mark

- $0 \div (-9)$
- $125 \div 25$
- $105 \div 7$
- $-42 \div 12$



Q3 Difficulty Level: Very Easy

Choose the rational number which lies between $\frac{-2}{5}$ and $\frac{-1}{3}$ క్రింది వాటిలో $\frac{-2}{5}$ మరియు $\frac{-1}{3}$ ల మధ్య గల అకరణీయ సంఖ్య ఏది?

This question carries 1 mark

- $\frac{-11}{30}$
- $\frac{-11}{15}$
- $\frac{-1}{15}$
- $\frac{-3}{15}$

Q4 Difficulty Level: Very Easy

For which equation $x = -3$ is a solution?
 క్రింది వానిలో $x = -3$ సాధన అయ్యే సమీకరణం ఏది?

This question carries 1 mark

- $3X = 9$
- $2X - 5 = 10$
- $\frac{X}{3} + 3 = 2$
- $10 + X = -7$

Q5 Difficulty Level: Very Easy

How many years the simple interest on a sum of Rs.725, will be Rs.87 at 4% per annum?
 సామాన్య వడ్డీ ప్రకారం ఎన్ని సం|| లలో 4% వడ్డీ రేటు చొప్పున రూ. 725 కు రూ. 87 వడ్డీ వచ్చును?

This question carries 1 mark

- 1
- 5
- 3
- 4

Q6 Difficulty Level: Very Easy

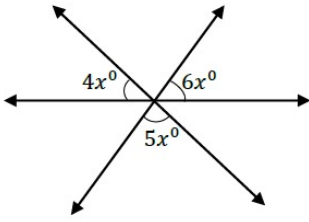
The reciprocal of $\left(\frac{1}{3} \times \frac{1}{4}\right) + \left(\frac{1}{2} \times 4\right)$ is Reg.No.204/2015
 $\left(\frac{1}{3} \times \frac{1}{4}\right) + \left(\frac{1}{2} \times 4\right)$ యొక్క వ్యుత్తరము _____

This question carries 1 mark

- $\frac{25}{12}$
- 3
- $\frac{1}{3}$
- $\frac{12}{25}$

Q7 Difficulty Level: Very Easy

Find the value of "X" in the given figure?



ప్రక్క పటంలో "X" విలువ ఎంత?

This question carries 1 mark

- 24°
- 180°
- 36°
- 12°

Q8 Difficulty Level: Very Easy

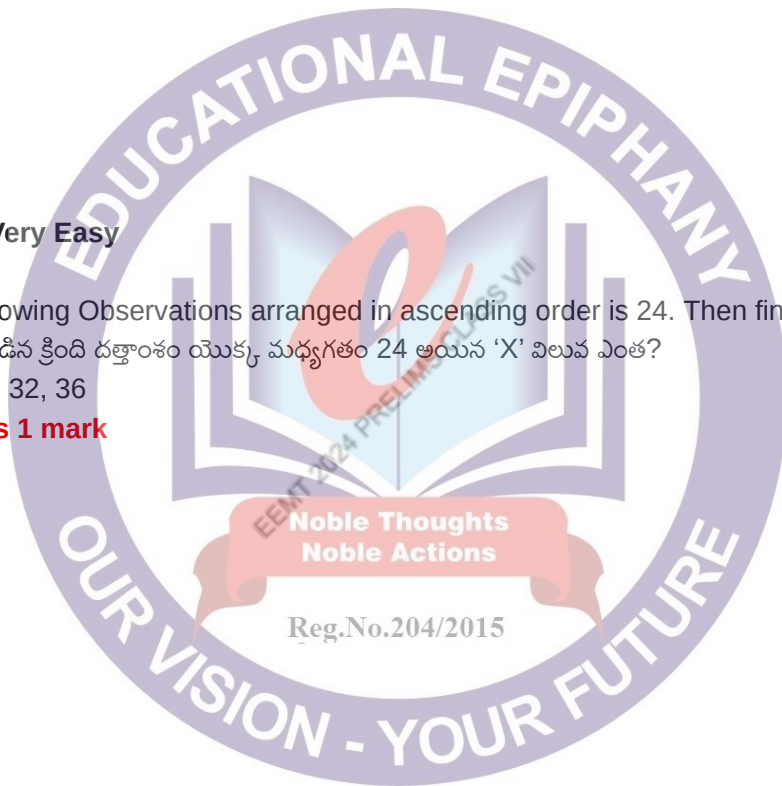
The median of the following Observations arranged in ascending order is 24. Then find the value of 'X'?

ఆరోహణ క్రమంలో అమర్చబడిన క్రింది దత్తాంశం యొక్క మధ్యగతం 24 అయిన 'X' విలువ ఎంత?

2, 8, 10, X-2, X+8, 28, 32, 36

This question carries 1 mark

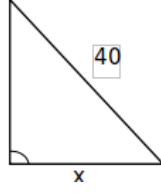
- 9
- 21
- 20
- 10



Q9 Difficulty Level: Very Easy

In ΔABC , $\angle B = 90^\circ$ then $x =$ _____

ΔABC లో $\angle B = 90^\circ$ అయిన $x =$ _____ 24



This question carries 1 mark

- 28
 32
 25
 23


Q10 Difficulty Level: Very Easy

With respect to which of the following operations is closure property satisfied by the set of integers?

ఈ క్రింది వానిలో పూర్ణ సంఖ్యలు సంవృత ధర్మాన్ని ఏ పరిక్రియలలో పాటిస్తాయి?

This question carries 1 mark

- $+, x$
 $+, -, x, \div$
 $+, x, -$
 $+, -, \div$



Section: MATHS-MODERATE

Marks per question: 2

6 of 6 question(s) in this section will be shown to examinee

Examinee should answer all 6 question(s) in this section

Q1 Difficulty Level: Very Easy

If $\frac{2}{3}$ of a number is 20 less than the original number. Then find that number?ఒక సంఖ్య యొక్క $\frac{2}{3}$ వ భాగం, ఆ సంఖ్య కంటే 20 తక్కువ అయిన ఆ సంఖ్య ఎంత?**This question carries 2 marks**

- 80
- 60
- 40
- 50

Q2 Difficulty Level: Very Easy

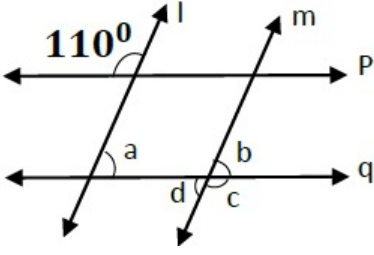
If $XY = 10\frac{2}{5}$, If one of the number X is $8\frac{2}{5}$. Then find $X \div Y$? $XY = 10\frac{2}{5}$, వాటిలో ఒక సంఖ్య $X = 8\frac{2}{5}$ అయితే $X \div Y$ విలువ ఎంత?**This question carries 2 marks**

- 7
- $1\frac{1}{5}$
- 12
- $5\frac{1}{3}$



Q3 Difficulty Level: Very Easy

In the given figure $l \parallel m, p \parallel q$ then $a+b+c+d=$ ___



ప్రక్క పటంలో $l \parallel m, p \parallel q$ అయిన $a+b+c+d=$ ___

This question carries 2 marks

- 320°
- 360°
- 380°
- 400°


Q4 Difficulty Level: Very Easy

Find the angle, which is $\frac{2}{3}$ of its complement?

ఒక కోణం దాని పూరక కోణం నకు $\frac{2}{3}$ రెట్లు అయిన ఆ కోణం ఎంత?

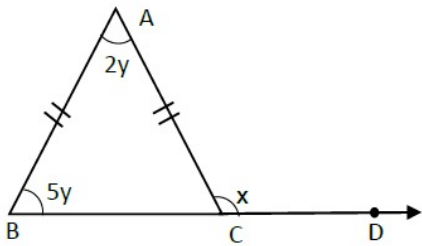
This question carries 2 marks

- 48°
- 72°
- 36°
- 90°



Q5 Difficulty Level: Very Easy

In $\triangle ABC$, $AB = AC$, then $X+Y =$ _____



$\triangle ABC$ లో $AB = AC$, అయిన $X+Y =$ _____

This question carries 2 marks

- 135°
 120°
 140°
 145°

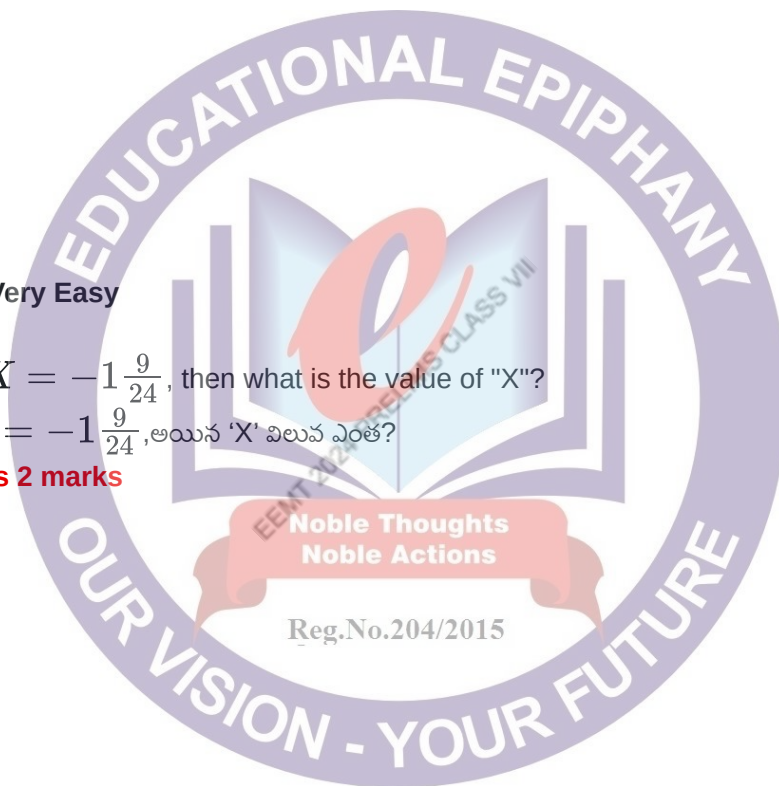
Q6 Difficulty Level: Very Easy

If $\frac{3}{8} - \left(\frac{-17}{4}\right) + X = -1\frac{9}{24}$, then what is the value of "X"?

$\frac{3}{8} - \left(\frac{-17}{4}\right) + X = -1\frac{9}{24}$, అయిన 'X' విలువ ఎంత?

This question carries 2 marks

- $\frac{1}{6}$
 $-\frac{1}{6}$
 6
 -6



Section: MATHS-DIFFICULT

Marks per question: 3

4 of 4 question(s) in this section will be shown to examinee

Examinee should answer all 4 question(s) in this section

Q1 Difficulty Level: Very Easy

The average of 4 consecutive odd numbers is 52. Then find the largest number?

4 వరుస బేసి సహజ సంఖ్యల సరాసరి 52. అయిన వాటిలో పెద్ద సంఖ్య ఎంత?

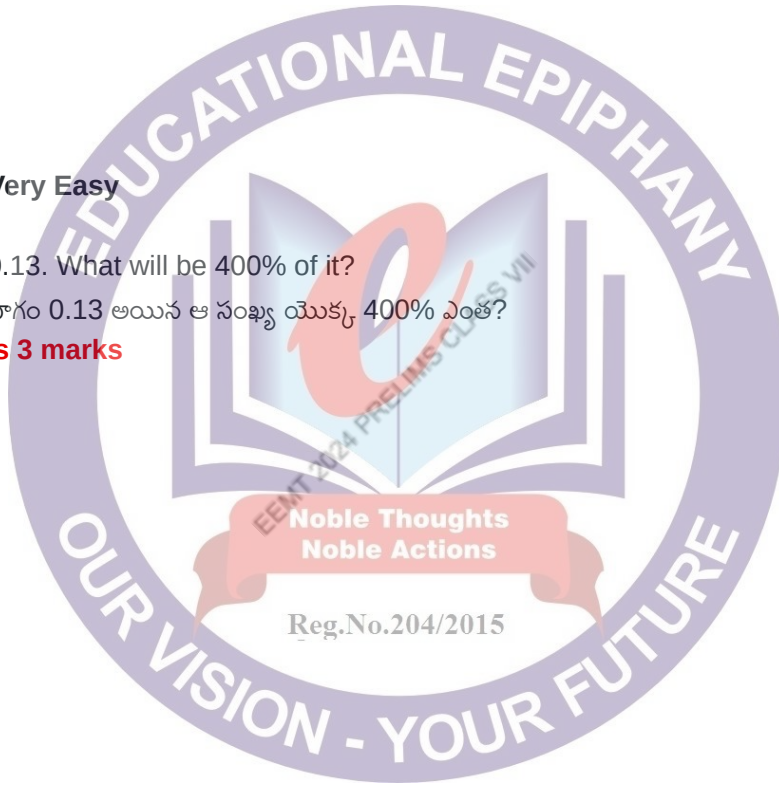
This question carries 3 marks

- 51
- 63
- 55
- 65

Q2 Difficulty Level: Very Easy

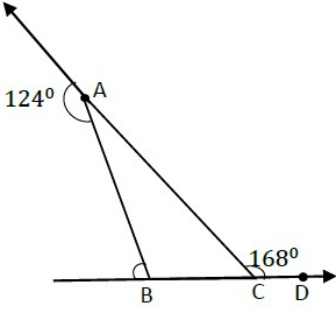
If $3\frac{1}{4}$ of a number is 0.13. What will be 400% of it?ఒక సంఖ్య యొక్క $3\frac{1}{4}$ వ భాగం 0.13 అయిన ఆ సంఖ్య యొక్క 400% ఎంత?**This question carries 3 marks**

- $\frac{4}{25}$
- $\frac{4}{13}$
- 13
- 12.4



Q3 Difficulty Level: Very Easy

In the given figure $\angle ABC = ?$



ప్రక్క పటంలో $\angle ABC = ?$

This question carries 3 marks

- 136°
- 112°
- 58°
- 68°

Q4 Difficulty Level: Very Easy

40% of a number is added to 40, then the result is 120% of the number. What is the number?

ఒక సంఖ్యలో 40% కు 40 ని కలిపితే ఆ సంఖ్య అనేది 120% విలువగా మారును. అయిన ఆ సంఖ్య ఏది?

This question carries 3 marks

- 45
- 36
- 75
- 50



Section: IQ-EASY

Marks per question: 1

3 of 3 question(s) in this section will be shown to examinee

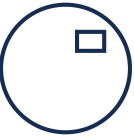



Examinee should answer all 3 question(s) in this section


Q1 Difficulty Level: Very Easy

Finish the series below క్రింద ఇచ్చిన క్రమాన్ని పూర్తిచేయండి.



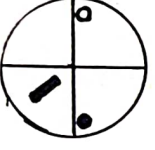
This question carries 1 mark

- 
 
 
 

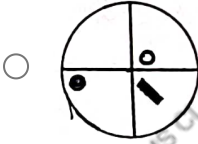
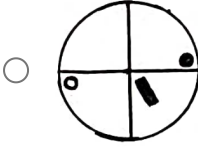
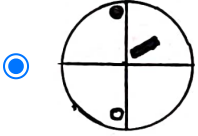
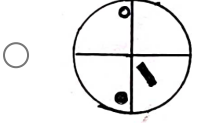


Q2 Difficulty Level: Very Easy

Which figure is identical to the first మొదటిదానికి ఒకేమాదిరిగా ఉన్న చిత్రం ఏది?




This question carries 1 mark



Q3 Difficulty Level: Very Easy

How many triangles are there in the figure given below?

ఈ క్రింద ఇవ్వబడిన చిత్రంలో ఎన్ని త్రిభుజాలు ఉన్నాయి?



This question carries 1 mark

 5

 6

 7

 8

Section: IQ-MODERATE

Marks per question: 2

2 of 2 question(s) in this section will be shown to examinee

Examinee should answer all 2 question(s) in this section

Q1 Difficulty Level: Very Easy

Fill in the blank; ఖాళీని పూరించండి.

42 : 56 :: 72 : ?

This question carries 2 marks

- 80
- 90
- 81
- 100


Q2 Difficulty Level: Very Easy

Which letter in an English alphabetical order, is 4th to the right of 12th from left end?

ఆంగ్ల వర్ణమాలలో, ఎడమ చివర నుంచి 12వ అక్షరానికి కుడివైపున గల 4వ అక్షరం ఏది?

This question carries 2 marks

- P
- K
- H
- S



Section: IQ-DIFFICULT

Marks per question: 3

1 of 1 question(s) in this section will be shown to examinee


Examinee should answer all 1 question(s) in this section

Q1 Difficulty Level: Very Easy

Find the leap year after 1896? 1896 తరువాత వచ్చే లీపు సంవత్సరాన్ని కనుక్కోండి.

This question carries 3 marks

- 1900
- 1908
- 1904
- 1912




EEMT 2024 PRELIMS U

EEMT 2024 PRELIMS U

EEMT 2024 PRELIMS U

EEMT 2024 PRELIMS CLASS VII

EEMT 2024 PRELIMS CLASS VII



24 PRELIMS CLASS VII

24 PRELIMS CLASS VII

24 PRELIMS CLASS VII